




# EEN BREUK NEMEN VAN EEN GETAL


  $\frac{2}{3}$  van 9


  $\frac{5}{6}$  van 12


  $\frac{3}{4}$  van 20


  $\frac{3}{7}$  van 21


  $\frac{5}{8}$  van 32

  $\frac{1}{6}$  van 24

  $\frac{2}{5}$  van 35

  $\frac{4}{7}$  van 42

  $\frac{3}{5}$  van 45

  $\frac{7}{9}$  van 63

4
15
6
27
20
24
9
14
49
10